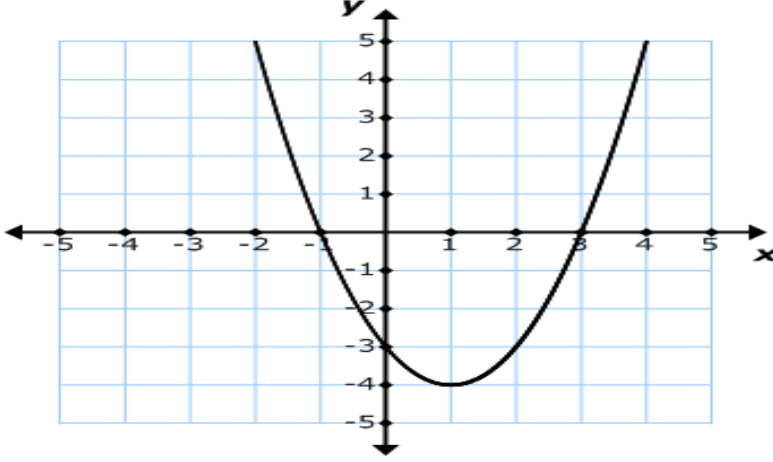
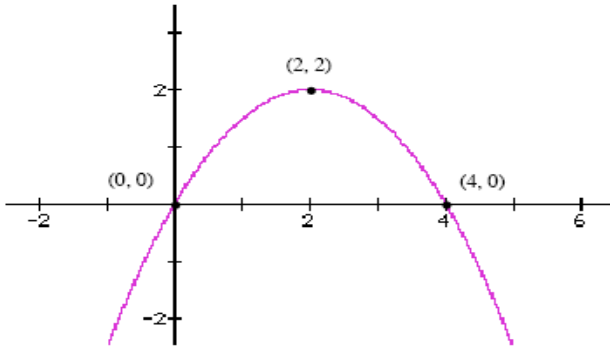


Grafiđi Verilen Parabolün Denklemi Yazma Çalışma Kađıdı

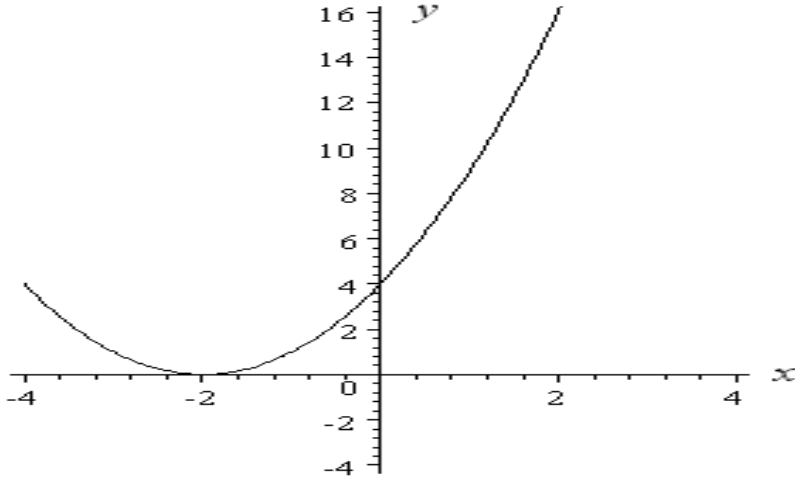
1. Şekilde grafiđi verilen parabolün denklemini yazınız.



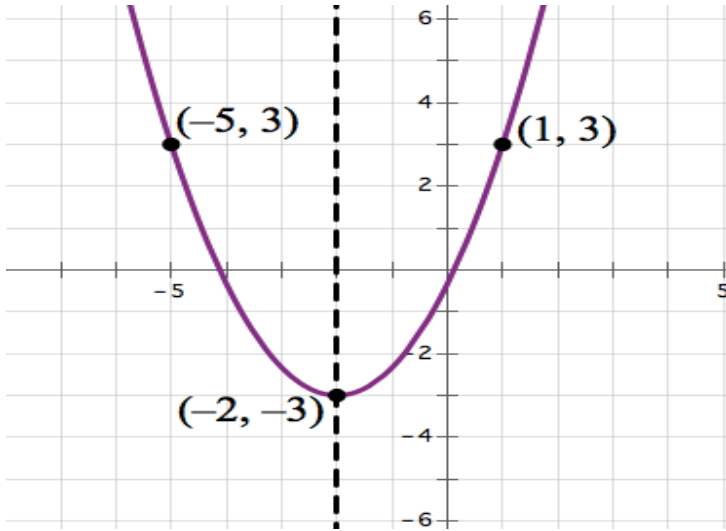
2. Şekilde grafiđi verilen parabolün denklemini yazınız.



3. Şekilde grafiği verilen parabolün denklemini yazınız.



4. Şekilde grafiği verilen parabolün denklemini yazınız.



5. $A(0, 3)$, $B(-1, 2)$ ve $C(2, 1)$ noktalarından geçen parabolün denklemini yazınız.

6. x eksenini -2 ve 3 apsisli noktalarda, y eksenini ise ordinatı 4 olan noktada kesen parabolün denklemini yazınız.

7. Tepe noktası $(-3, 2)$ olan ve orjinden geçen parabolün denklemini yazınız.